



MILÉ DĚTI,  
 PŘEJI VÁM V NOVÉM ROCE 2021  
 MNOHO ÚSPĚCHŮ VE ŠKOLE  
 A STÁLE BYSTRÉ HLAVIČKY.





TAJENKA :

ZIMNÍ

1.										í
2.				C						
3.	H									
4.							N			
5.	B									
6.					V					

2. 

4. 

6.  3.  1.  5. 

# NAJDI ROZDÍLY :



## Zkus vyřešit:

Patrik má oslavu narozenin. Chce pro kamarády nachystat domácí limonádu. Má 5 dvoulitrových lahví. Našel si recept, kde jsou rozepsány ingredience na 1 l: 3 citrony a 1 l vody. Při manipulaci se mu jedna láhev rozbila. Udělá tedy limonádu jen do zbývajících. Kolik bude potřebovat vody a citronů?



Na vánoční trh dělala babička tři druhy perníků (zdobené cukrovou polevou, čokoládou a oběma). Celkem měla 450 perníků. 228 jich bylo ozdobených čokoládou, 285 cukrovou polevou. Kolik perníků bylo tedy ozdobeno obojím zdebením?



Ředkvičky vyrostou za 5 týdnů, kedlubny za 15 týdnů. Kolikrát víc budu mít ředkviček za 15 týdnů mého zahrádkářského snažení?



Michal má doma vanu, které má 2 kohoutky. Jedním kohoutkem ji napustí za 10 minut. Druhým kohoutkem také za 10 minut.

Jak dlouho bude trvat, než bude vana napuštěná, pokud pustí Michal oba kohoutky najednou?



Šárka upekla na svou oslavu 18 muffinů. Petra přinesla také muffiny, ale zapomněla přidat prášek do pečiva, těsto jí nevyběhlo, a upekla jich proto třikrát méně než Šárka. Monika s Lenkou pekly společně sušenky. Upekly 5 plechů, na každém plechu měly 10 sušenek. Kolik zákusků celkem měla děvčata na oslavě?



Každý všední den přečtu s maminkou jednu kapitolu z mé oblíbené knížky.

O víkendu se místo čtení díváme na pohádku. Za kolik týdnů přečtu knížku, která má 35 kapitol?



Petr, Standa a Filip si koupili dohromady míč, který stál 60 Kč. Domluvili se, že se o platbu rozdělí rovným dílem. Petr ale zjistil, že mu 10 Kč chybí, a tak si je půjčil od Standy. Kolik tedy každý chlapec zaplatil?



Koupila jsem 2 balení dřevěných ozdob. Jedno balení obsahuje 16 ozdob a druhé 20 ozdob. Všem dětem ve třídě jsem dala 1 ozdobu jako vánoční dárek. Celkem nás chodí do třídy 25 (včetně mě). Kolik ozdob mi zůstalo?

