

Děti, zkuste si splnit, tyto úkoly:




- |  |   |
|--|---|
| <input type="checkbox"/> Jít na hřiště                 | <input type="checkbox"/> Zasadit si osení                 |
| <input type="checkbox"/> Navštívit farmu               | <input type="checkbox"/> Uplést si věneček                |
| <input type="checkbox"/> Vyrobit Velikonoční pohled    | <input type="checkbox"/> Nakrmit kachny                   |
| <input type="checkbox"/> Nasbírat a pomalovat kameny   | <input type="checkbox"/> Nazdobit si kraslice             |
| <input type="checkbox"/> Jít na dlouhou procházku      | <input type="checkbox"/> Vyrobit si něco ze slaného těsta |
| <input type="checkbox"/> Natrhat si větvičky do vázy   | <input type="checkbox"/> Uvařit si špenátové jídlo        |
| <input type="checkbox"/> Poznávat ptáčky a jejich zpěv | <input type="checkbox"/> Malovat křídami na chodník       |
| <input type="checkbox"/> Projet se na kole/koloběžce   |   |


## HRA V KOSTKY

Komu padlo dohromady nejvíc? (Vybarvi oranžově.)


A komu nejméně? (Vybarvi hnědě.)



Doplň čísla.




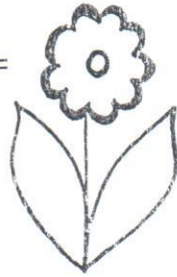
Kolik metrů musí uletět motýli, než dosednou na květiny?



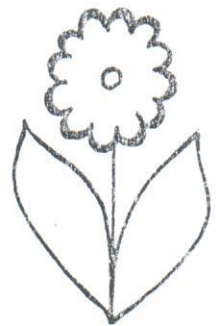
$$5 + 3 - 4 - 2 + 6 - 5 + 1 + 1 - 3 =$$



$$9 - 4 - 2 + 1 + 2 + 1 - 3 - 3 =$$



$$10 - 5 - 5 + 2 + 1 - 2 + 8 - 6 + 3 + 3 - 8 + 5 =$$



$$1 + 1 + 2 + 4 + 1 - 9 + 5 + 3 + 2 =$$



$$3 + 4 - 5 + 1 - 2 + 1 + 3 + 5 + 8 - 1 + 3 + 5 =$$

