

Malované slovní úlohy

1. Romanovi je 9 let.
Romanova sestra Jana je
o 2 roky mladší než Roman.
Tatínek Romana je
o 30 let starší než Roman.
Maminka je o 4 roky mladší
než Romanův tatínek.



Kolik roků je jednotlivým členům rodiny?

Výpočty zapiš do sešitu:

Roman 9 let

Jana $9 - \underline{\quad} = \underline{\quad}$

tatínek $9 + \underline{\quad} = \underline{\quad}$

maminka $\underline{\quad} + \underline{\quad} = \underline{\quad}$

Odpověď:

Romanovi je 9 let.

Janě je $\underline{\quad}$ let.

Tatínkovi je $\underline{\quad}$ let.

Mamince je $\underline{\quad}$ let.

Úlohu počítej znovu. Začni např.: Romanovi je 7 let...

2. V pytli bylo 55 kg pšenice.
Kolik kg pšenice zbylo v pytli,
když obchodník 5 kg pšenice prodal?

Výpočet:

$55 - 5 = \underline{\quad}$


Odpověď:

V pytli zbylo $\underline{\quad}$ pšenice.



Úlohu počítej znovu. Začni např.: V pytli bylo 60 kg pšenice...

3. Ve kterém pytli je nejvíce kg pšenice?




Porovnávej např.:

60 kg 55 kg

60 kg 45 kg

1. Přilbu používám při jízdě

- a) jen na kole
- b) jen na bruslích
- c) v autě
- d) na kole, bruslích, koloběžce



2. Přilbu

- a) mám jednu na celý život
- b) měním podle toho, jak rostu
- c) nepoužívám
- d) použiji i prasklou

3. Při pádu na kole

- a) se nikdo nezraní
- b) si hlavu nemohu zranit
- c) je často zraněná hlava
- d) se nemůže nic stát

4. Přilbu

- a) si nemusím zapnout
- b) si zapnu vždy
- c) si zapnu volně
- d) si zavážu šátkem

5. Když jedu na kole

- s rodiči, přilbu
- a) nepotřebuji
- b) mám vždy
- c) nemám na chodníku
- d) má jen dospělý




6. Přilba při pádu

- a) chrání krk
- b) chrání hlavu
- c) chrání ruce
- d) nechrání vůbec nic

7. Cyklista jede rychlostí 15 km/h a spadne. Jeho pád je stejný, jako by skočil na hlavu

- a) z postele
- b) ze židle
- c) z okna v přízemí
- d) ze třetího patra



8. Přilbu musím používat do

- a) deseti let
- b) dvanácti let
- c) patnácti let
- d) osmnácti let



9. Přilbu používám na kole

- a) jen na stezce pro cyklisty
- b) jen na silnici
- c) jen na chodníku
- d) vždy

Zakroužkuj obrázek, který do řady nepatří. Poté vysvětli, proč tomu tak je.

DUB



JEDLE



BUK



BŘÍZA



CHRPA



SMETÁNKA



KAKOST



HRUŠKA



OŘECH



ŽALUDY



KAŠTAN



ULITA



HNÍZDO



PÍRKO



ŠÍPKY



STOPY

